

Wildparkrallye - Große Runde (1)

1. Ein **Wisent** ist nicht nur groß, sondern auch schwer. Finde heraus, wie schwer ein Wisentkalb bei der Geburt sein kann:

ca. _____ kg

Wusstest Du schon, dass ein ausgewachsener Wisentstier so viel wie ein Kleinwagen wiegen kann (bis zu einer Tonne).

2. Tragen alle **Wisente** Hörner auf dem Kopf?

3. Wie nennt man eine Gruppe aus **Wildschweinen**?

R **E**

Wie heißt das männliche **Wildschwein**,

K **E** **R**

wie das weibliche **Wildschwein** in der Fachsprache?

B **E**

4. Starke Wildschweinfrauen unterscheiden sich häufig nicht merklich in Körpergröße und –gewicht von männlichen Wildschweinen. Wenn Du Dir aber Zeit nimmst und die **Wildschwein-familie** genau beobachtest, kannst Du ein sicheres Unterscheidungsmerkmal erkennen. Worin unterscheiden sich Wildschweinfrau und -mann voneinander?

5. Suche alle **Rotwildbegriffe** aus dem „Buchstabensalat“ heraus. Du kannst sie einreihig in diagonalen, vertikalen und horizontalen Richtung einkreisen (siehe Beispiel). Es sind insgesamt 6 Wörter versteckt.

P	M	U	T	N	Q	R	B	S	Ü	I	H	Z	W	A	L	P
C	S	C	H	I	E	B	E	K	A	M	P	F	H	A	T	C
O	F	A	R	B	S	R	H	O	W	L	N	B	T	Y	V	Ä
N	V	Z	L	I	R	S	H	I	R	S	C	H	K	U	H	O
H	P	A	H	X	Ä	B	Y	P	L	Ö	N	W	N	V	E	B
C	K	Ü	Q	Y	I	A	R	B	U	A	H	T	Ö	H	O	R
S	C	I	E	F	Ü	X	Ö	Z	S	H	Q	R	F	E	W	U
Q	P	L	A	T	Z	H	I	R	S	C	H	O	E	N	A	N
K	X	Ö	B	F	N	Z	Y	Ä	B	I	V	Q	F	N	E	F
Y	H	T	Z	V	E	Ö	W	P	C	Ü	N	X	E	Ä	M	T

6. Zu welchem Ernährungstyp gehört das **Rotwild**? Kreuze die richtige Antwort an:

Pflanzenfresser

Allesfresser

Fleischfresser

7. Das Fell der **Tundrawölfe** wird erst im zweiten Lebensjahr weiß. Wie viele Haare befinden sich auf 1 cm² Fläche (entspricht etwa der Größe eines Daumennagels)?

ca.: _____

8. Welche Feinde haben **Wölfe**?

9. Welche Tiere jagt der **Luchs**? Schau Dir die Bilder auf dem Gehegeschild genau an.

10. Wie lange dauert die Tragzeit bei den **Luchskatzen**?

11. **Elche** fressen überwiegend sehr energie- und mineralstoffreiche Nahrung. Was fressen sie am liebsten ?

L **B**




und

N **P** **E**

12. Was ist bei unseren **Elchen** absolut verboten? Denke dabei an das empfindliche Magen- und Verdauungssystem der Elche.

13. Nenne die Namen der Tiere und ordne ihnen den richtigen Kopfschmuck zu:

5



A



B



C



D



E